


Министерство образования и науки Республики Татарстан
ГАПОУ «Казанский политехнический колледж»

СОГЛАСОВАНО

Заместитель

директора по НМР


 Л.Т. Садыкова

«01» 09 2021 г.

УТВЕРЖДАЮ

Заместитель

директора по УТР

 С.В. Исаева

«01» 09 2021 г.




КОНТРОЛЬНО-ОЦЕНОЧНЫЕ МАТЕРИАЛЫ

ОУД.08 Астрономия

программы подготовки квалифицированных рабочих, служащих

08.01.14 Монтажник санитарно-технических, вентиляционных

систем и оборудования

Рассмотрены на заседании
предметно-цикловой комиссии
общеобразовательных дисциплин
Протокол № 1
От «31» 08 2021 г.
Председатель ПЦК 

2021 г.

1. ОБЩИЕ ПОЛОЖЕНИЯ

Комплект контрольно-оценочных материалов разработан на основе:

- Федерального государственного образовательного стандарта среднего общего образования,
- ФГОС СПО по профессии 08.01.14 Монтажник санитарно-технических, вентиляционных систем и оборудования.
- основной профессиональной образовательной программы по профессии 08.01.14 Монтажник санитарно-технических, вентиляционных систем и оборудования, 2021 г.;
- рабочей программы воспитания по профессии 08.01.14 Монтажник санитарно-технических, вентиляционных систем и оборудования, 2021 г.
- рабочей программы учебной дисциплины ОУД.08 Астрономия.

Контрольно-оценочные материалы предназначены для контроля и оценки образовательных достижений обучающихся, освоивших программу учебной дисциплины ОУД.08 Астрономия.

КОМы включают контрольные материалы для проведения текущего контроля и промежуточной аттестации в форме дифференцированного зачета.

2. ПОКАЗАТЕЛИ ОЦЕНКИ РЕЗУЛЬТАТОВ ОСВОЕНИЯ ДИСЦИПЛИНЫ, ФОРМЫ И МЕТОДЫ КОНТРОЛЯ И ОЦЕНКИ

Результаты обучения (освоенные умения, усвоенные знания)	Формы и методы контроля и оценки результатов обучение
1	2
личностные: – сформированность научного мировоззрения, соответствующего современному уровню развития астрономической науки;	оценка выполнения заданий на практических занятиях и самостоятельной работы
– устойчивый интерес к истории и достижениям в области астрономии;	оценка выполнения заданий на практических занятиях и самостоятельной работы
– умение анализировать последствия освоения космического пространства для жизни и деятельности человека;	оценка выполнения заданий на практических занятиях и самостоятельной работы
метапредметные: – умение использовать при выполнении практических заданий по астрономии такие мыслительные операции, как постановка задачи, формулирование гипотез, анализ и синтез, сравнение, обобщение, систематизация, выявление причинно-следственных связей, поиск аналогов, формулирование выводов для изучения различных сторон владение навыками познавательной деятельности, навыками разрешения проблем, возникающих при выполнении практических заданий по астрономии;	Практическая работа №3
– умение использовать различные источники по астрономии для получения достоверной научной информации, умение	

оценить ее достоверность;		Практическая работа №1
– владение языковыми средствами: умение ясно, логично и точно излагать свою точку зрения по различным вопросам астрономии, использовать языковые средства, адекватные обсуждаемой проблеме астрономического характера, включая составление текста и презентации материалов с использованием информационных и коммуникационных технологий;		.Сообщение по теме «понятие о летосчислении». Презентация по теме» Планеты земной группы»
предметные – сформированность представлений о строении Солнечной системы, эволюции звезд и Вселенной, пространственно-временных масштабах Вселенной;		Практическая работа №3
– понимание сущности наблюдаемых во Вселенной явлений;		Тестовые задание по теме №4
– владение основополагающими астрономическими понятиями, теориями, законами и закономерностями, уверенное пользование астрономической терминологией и символикой;		Сообщение по теме "Сверхновые звезды»
– сформированность представлений о значении астрономии в практической деятельности человека и дальнейшем научно-техническом развитии;		Тестовые задания по теме 2
– осознание роли отечественной науки в освоении и использовании космическо-го пространства и развитии международного сотрудничества в этой области.		Работа с историографическими и архивными документами по разделу 1
ОК 02	Осуществлять поиск, анализ и интерпретацию информации, необходимой для выполнения задач профессиональной деятельности	Умения: определять задачи для поиска информации; определять необходимые источники информации; планировать процесс поиска; структурировать получаемую информацию; выделять наиболее значимое в перечне информации; оценивать практическую значимость результатов поиска; оформлять результаты поиска Знания: номенклатура информационных источников применяемых в профессиональной деятельности; приемы структурирования информации; формат оформления результатов поиска информации

ОК 03	Планировать и реализовывать собственное профессиональное и личностное развитие.	Умения: определять актуальность нормативно-правовой документации в профессиональной деятельности; применять современную научную профессиональную терминологию; определять и выстраивать траектории профессионального развития и самообразования
		Знания: содержание актуальной нормативно-правовой документации; современная научная и профессиональная терминология; возможные траектории профессионального развития и самообразования
ОК 04	Работать в коллективе и команде, эффективно взаимодействовать с коллегами, руководством, клиентами.	Умения: организовывать работу коллектива и команды; взаимодействовать с коллегами, руководством, клиентами в ходе профессиональной деятельности
		Знания: психологические основы деятельности коллектива, психологические особенности личности; основы проектной деятельности
ОК 05	Осуществлять устную и письменную коммуникацию на государственном языке с учетом особенностей социального и культурного контекста.	Умения: грамотно излагать свои мысли и оформлять документы по профессиональной тематике на государственном языке, проявлять толерантность в рабочем коллективе
		Знания: особенности социального и культурного контекста; правила оформления документов и построения устных сообщений.
ОК 07	Содействовать сохранению окружающей среды, ресурсосбережению, эффективно действовать в чрезвычайных ситуациях.	Умения: соблюдать нормы экологической безопасности; определять направления ресурсосбережения в рамках профессиональной деятельности по профессии
		Знания: правила экологической безопасности при ведении профессиональной деятельности; основные ресурсы, задействованные в профессиональной деятельности; пути обеспечения ресурсосбережения
ОК 09	Использовать информационные технологии в профессиональной деятельности	Умения: применять средства информационных технологий для решения профессиональных задач; использовать современное программное обеспечение
		Знания: современные средства и устройства информатизации; порядок их применения и программное обеспечение в профессиональной деятельности
Личностные результаты		Формы и методы контроля и оценки
ЛР 3 Осознающий значимость системного познания мира, критического осмысления накопленного опыта.		-Оценка собственного продвижения, личностного развития. – понимание сущности наблюдаемых во Вселенной явлений;

<p>ЛР 10 Способный в цифровой среде использовать различные цифровые средства, позволяющие во взаимодействии с другими людьми достигать поставленных целей; стремящийся к формированию в сетевой среде лично и профессионального конструктивного «цифрового следа».</p>	<p>Проявление культуры потребления информации, умений и навыков пользования компьютерной, навыков отбора и критического анализа информации, умения ориентироваться в информационном пространстве.</p>
<p>ЛР 12 Способный искать нужные источники информации и данные, генерировать новые идеи для решения задач цифровой экономики, перестраивать сложившиеся способы решения задач, выдвигать альтернативные варианты действий с целью выработки новых оптимальных алгоритмов; позиционирующий себя в сети как результативный и привлекательный участник трудовых отношений</p>	<p>Самостоятельное формирование портфолио профессиональных достижений. Участие в конкурсах профессионального мастерства и в командных проектах.</p>

3. Контрольно-оценочные материалы

3.1 Текущий контроль

3.1.1 Банк тестовых заданий по темам дисциплины

Перечислите, какие вы знаете созвездия и умеете их находить на небе.

1. Что вы знаете о Полярной звезде, меняется ли ее положение на небосводе относительно сторон горизонта.
3. Перечислите планеты солнечной системы.
4. Чем отличается звезда от планеты?
5. Что бы случилось, если бы исчез наклон земной оси?
6. Как называется основной прибор, применяемый в астрономии?
7. Почему метеориты сгорают в атмосфере планет?
8. Сколько суток проходит от новолуния до следующего новолуния?
9. Что называется созвездием?
10. Какой искусственное сооружение видно с орбиты Земли?

Критерий оценивания «Входного контроля»: Каждое задание оценивается в 1 балл. Система начисления баллов за правильно выполненное задание для оценивания работ по 5балльной шкале оценивания учебных достижений студентов приведено в таблице 1.

Таблица 1.

Количество набранных баллов	Оценка по 5-балльной системе оценивания учебных достижений студентов
0-3	2 ("неудовлетворительно")
4-5	3 ("удовлетворительно")
6-7	4 ("хорошо")
8-10	5 ("отлично")

Тест 1 по теме: *Введение и основы практической астрономии*:

- 1) Как называется основной прибор, применяемый в астрономии:
А) микроскоп; В) телескоп; С) линза; Д) окуляр; Е) бинокль.
- 2) Астрономия возникла ...
А) из любознательности; В) чтобы ориентироваться по сторонам горизонта; С) для предсказания судеб людей; Д) для измерения времени и для навигации; Е) для получения новых материалов.
- 3) Как называется наука, которая изучает явления, происходящие в различных телах или системе тел, находящихся в космическом пространстве?
А) физика; В) химия; С) астрономия; Д) биофизика; Е) геология.
- 4) Как называется сооружение, предназначенное для наблюдения за движением небесных тел? А) консерватория; В) обсерватория; С) амбулатория; Д) лаборатория; Е) акватория.
- 5) Какие науки из перечисленных ниже являются разделами астрономии?
1) космонавтика; 2) астрология; 3) космогония; 4) космология. А) 2 и 4; В) 1,3,4; С) 1,2; Д) 2,3,4; Е) 3,4.
- 6) Что называется созвездием?
А) участок небесной сферы со строго определенными границами;
В) расположение звезд на небесной сфере;
С) яркие звезды; Д) скопление звезд в северном полушарии; Е) скопление звезд на экваторе;
- 7) На сколько созвездий разделено небо? А) 108. В) 68. С) 88.
- 8) Соотнесите понятия (А - Д) и определения (а - в): А. Всемирное время; Б. Поясное время; В. Московское время; Г. Летнее время; Д. Зимнее время; а) время на гринвичском меридиане; б) единое условное время между двумя меридианами с расстоянием в 15°; в) перевод времени на 1 час назад по сравнению с поясным.

Эталон ответов на тест 1 по теме: *Введение и основы практической астрономии*

№	1	2	3	4	5	6	7	8
Вариант	В	Д	С	В	В	А	С	А - а, Б - б, Г, Д - в

Критерий оценивания «Введение и основы практической астрономии»: Каждое задание оценивается в 1 балл. Система начисления баллов за правильно выполненное задание для оценивания работ по 5-балльной шкале оценивания учебных достижений студентов приведено в таблице 1.

Таблица 1.

Количество набранных баллов	Оценка по 5-балльной системе оценивания учебных достижений студентов
0-4	2 ("неудовлетворительно")
5-6	3 ("удовлетворительно")
7-8	4 ("хорошо")
9-10	5 ("отлично")

Тест 2 по теме: *Механика небесных тел*:

- 1) Расположите фамилии ученых, занимавшихся изучением системы Мира, в порядке их появления: А) Клавдий Птолемей; Б) Иоганн Кеплер; В) Джордано Бруно; Г) Николай Коперник; Д) Исаак Ньютон; Е) Галилео Галилей;
- 2) Из вышеперечисленных ученых выберите тех, кто открыл и доказал Законы движения небесных тел.
- 3) Известно, что орбита любой планеты представляет собой эллипс, в одном из фокусов которого находится Солнце. Ближайшая к Солнцу точка орбиты называется: А) апогей; Б) перигей; В) апогелий; Г) перигелий;
- 4) Отклонение небесного тела от эллиптической траектории называется: А) смещение; Б) отклонение; В) возмущение) отношение;
- 5) Без какого из следующих утверждений немыслима гелиоцентрическая система?
А) Солнце имеет шарообразную форму; В) Земля имеет шарообразную форму; С) Планеты обращаются вокруг Солнца) Планеты обращаются вокруг Земли;
- Е) Земля вращается вокруг своей оси.
- 6) Все утверждения, за исключением одного, характеризуют геоцентрическую систему мира. Укажите исключение: А) Земля находится в центре этой системы или вблизи него; В) Планеты движутся вокруг Земли; С) Движение Солнца происходит вокруг Земли; Д) Луна движется вокруг Солнца) Суточное движение звезд происходит вокруг Земли.
- 7) Массу планет можно определить:
А) по первому закону Кеплера; В) по второму закону Кеплера;
С) по третьему закону Кеплера) по второму и третьему законам Кеплера;
- 8) Что определяет второй закон Кеплера?
А) радиус-вектор планеты за равные промежутки времени описывает равные площади;
В) неравномерность движения планеты по орбите вокруг Солнца;
С) равномерность движения планеты по орбите вокруг Солнца; Д) очередность движения планет по орбите вокруг Солнца;
- Е) радиус-вектор планеты за равные промежутки времени описывает один и тот же угол.

Эталон ответов на тест 2 по теме: *Механика небесных тел*

№	1	2	3	4	5	6	7	8
Вариант	А, Г, В, Б, Е, Д	Б, Д	Г	В	С	Д	С	А

Критерий оценивания «*Механика небесных тел*»: Каждое задание оценивается в 1 балл. Система начисления баллов за правильно выполненное задание для оценивания работ по 5-балльной шкале оценивания учебных достижений студентов приведено в таблице 1. Таблица 1.

Количество набранных баллов	Оценка по 5-балльной системе оценивания учебных достижений студентов
0-4	2 ("неудовлетворительно")
5-6	3 ("удовлетворительно")
7-8	4 ("хорошо")
9-10	5 ("отлично")

Контрольная работа «Практические основы астрономии»

Вариант 1

1. Определите афелийное и перигелийное расстояние астероида Церера, если большая полуось его орбиты равна 2,765 а.е., а эксцентриситет составляет 0,078.
2. Звездный период обращения Нептуна вокруг Солнца составляет 164,78 года. Каково среднее расстояние от Нептуна до Солнца?
3. Считая, орбиты Земли и Меркурия круговыми, рассчитайте продолжительность года на Меркурии. При решении задачи необходимо учитывать, что Меркурий находится дальше от Солнца, чем Земля, в 0,39 раза.
4. Определите массу Марса (в Массах Земли) путем сравнения системы «Марс - Фобос» с системой «Земля - Луна», если Фобос отстоит от Марса на расстоянии 9377,2 км и обращается с периодом 7 ч и 40 мин суток. Массы Луны и Фобоса считайте пренебрежимо малыми по сравнению с массами планет.

Вариант 2

1. Определите афелийное и перигелийное расстояние астероида Веста, если большая полуось его орбиты равна 2,361 а.е., а эксцентриситет составляет 0,09.
2. Звездный период обращения Урана вокруг Солнца составляет 84,02 года. Каково среднее расстояние от Урана до Солнца?
3. Считая, орбиты Земли и Венеры круговыми, рассчитайте продолжительность года на Венере. При решении задачи необходимо учитывать, что Венера находится дальше от Солнца, чем Земля, в 0,723 раза.
4. Определите массу Марса (в Массах Земли) путем сравнения системы «Марс - Деймос» с системой «Земля - Луна», если Деймос отстоит от Марса на расстоянии 23458 км и обращается с периодом 1,26 суток. Массы Луны и Деймоса считайте пренебрежимо малыми по сравнению с массами планет.

Вариант 3

1. Определите афелийное и перигелийное расстояние астероида Юнона, если большая полуось его орбиты равна 2,67 а.е., а эксцентриситет составляет 0,258.
2. Звездный период обращения Сатурна вокруг Солнца составляет 29,46 лет. Каково среднее расстояние от Сатурна до Солнца?
3. Считая, орбиты Земли и Сатурна круговыми, рассчитайте продолжительность года на Сатурне. При решении задачи необходимо учитывать, что Сатурн находится дальше от Солнца, чем Земля, в 9,58 раза.
4. Определите массу Юпитера (в Массах Земли) путем сравнения системы «Юпитер - Ио» с системой «Земля - Луна», если Ио отстоит от Юпитера на расстоянии 421,7 тыс. км и обращается с периодом 1,77 суток. Массы Луны и Ио считайте пренебрежимо малыми по сравнению с массами планет.

Вариант 4

1. Определите афелийное и перигелийное расстояние астероида Эрос, если большая полуось его орбиты равна 1,458 а.е., а эксцентриситет составляет 0,223.
2. Звездный период обращения Плутона вокруг Солнца составляет 248,09 года. Каково среднее расстояние от Плутона до Солнца?
3. Считая, орбиты Земли и Юпитера круговыми, рассчитайте продолжительность года на Юпитере. При решении задачи необходимо учитывать, что Юпитер находится дальше от Солнца, чем Земля, в 5,2 раза.
4. Определите массу Юпитера (в Массах Земли) путем сравнения системы «Юпитер - Каллисто» с системой «Земля - Луна», если Каллисто отстоит от Юпитера на расстоянии 1882,7 тыс. км и обращается с периодом 16,69 суток. Массы Луны и Каллисто считайте пренебрежимо малыми по сравнению с массами планет.

Вариант 5

1. Определите афелийное и перигелийное расстояние астероида Паллада, если большая полуось его орбиты равна 2,766 а.е., а эксцентриситет составляет 0,231.
2. Звездный период обращения Марса вокруг Солнца составляет 0,615 года. Каково среднее расстояние от Марса до Солнца?
3. Считая, орбиты Земли и Урана круговыми, рассчитайте продолжительность года на Уране. При решении задачи необходимо учитывать, что Уран находится дальше от Солнца, чем Земля, в 19,23 раза.
4. Определите массу Урана (в Масссах Земли) путем сравнения системы «Уран - Миранда» с системой «Земля - Луна», если Миранда отстоит от Урана на расстоянии 129,4 тыс. км и обращается с периодом 1,41 суток. Массы Луны и Миранды считайте пренебрежимо малыми по сравнению с массами планет.

Вариант 6

1. Определите афелийное и перигелийное расстояние астероида Флора, если большая полуось его орбиты равна 2,201 а.е., а эксцентриситет составляет 0,141.
2. Звездный период обращения Венеры вокруг Солнца составляет 0,241 года. Каково среднее расстояние от Венеры до Солнца?
3. Считая, орбиты Земли и Нептуна круговыми, рассчитайте продолжительность года на Нептуне. При решении задачи необходимо учитывать, что Нептун находится дальше от Солнца, чем Земля, в 30,11 раза.
4. Определите массу Урана (в Масссах Земли) путем сравнения системы «Уран - Оберон» с системой «Земля - Луна», если Оберон отстоит от Урана на расстоянии 583,5 тыс. км и обращается с периодом 13,5 суток. Массы Луны и Оберона считайте пренебрежимо малыми по сравнению с массами планет.

Вариант 7

1. Определите афелийное и перигелийное расстояние астероида Матильда, если большая полуось его орбиты равна 2,646 а.е., а эксцентриситет составляет 0,266.
2. Звездный период обращения Плутона вокруг Солнца составляет 248,1 лет. Каково среднее расстояние от Плутона до Солнца?
3. Считая, орбиты Земли и Хаумеа круговыми, рассчитайте продолжительность года на Хаумеа. При решении задачи необходимо учитывать, что Хаумеа находится дальше от Солнца, чем Земля, в 42,98 раза.
4. Определите массу Нептуна (в Масссах Земли) путем сравнения системы «Нептун - Тритон» с системой «Земля - Луна», если Тритон отстоит от Нептуна на расстоянии 354,8 тыс. км и обращается с периодом 5,88 суток. Массы Луны и Тритона считайте пренебрежимо малыми по сравнению с массами планет.

Вариант 8

1. Определите афелийное и перигелийное расстояние астероида Гаспра, если большая полуось его орбиты равна 2,209 а.е., а эксцентриситет составляет 0,174.
2. Звездный период обращения Седны вокруг Солнца составляет 12059 лет. Каково среднее расстояние от Седны до Солнца?
3. Считая, орбиты Земли и Макемаке круговыми, рассчитайте продолжительность года на Макемаке. При решении задачи необходимо учитывать, что Макемаке находится дальше от Солнца, чем Земля, в 45,44 раза.
4. Определите массу Нептуна (в Масссах Земли) путем сравнения системы «Нептун - Нереида» с системой «Земля - Луна», если Нереида отстоит от Нептуна на расстоянии 354,8 тыс. км и обращается с периодом 360,14 суток. Массы Луны и Нереида считайте пренебрежимо малыми по сравнению с массами планет.

Критерий оценивания «Контрольная работа - Движение небесных тел»: Каждое задание оценивается в 1 балл. Система начисления баллов за правильно выполненное задание для оценивания работ по 5-балльной шкале оценивания учебных достижений студентов приведено в таблице 1.

Таблица 1.

Количество набранных баллов	Оценка по 5-балльной системе оценивания учебных достижений студентов
1	2 ("неудовлетворительно")
2	3 ("удовлетворительно")
3	4 ("хорошо")
4	5 ("отлично")

Тест 3 по теме: *Планеты земной группы:*

1. В состав Солнечной системы входит:
А) 8 планет; Б) 6 планет; В) 10 планет; Г) 4 планеты;
2. На какой планете самая агрессивная атмосфера; А) Меркурий; Б) Марс; В) Земля; Г) Венера;
3. К планетам земной группы относят:
А) Юпитер; Б) Марс; В) Плутон; Г) Нептун;
4. К планетам земной группы не относят:
А) Венеру; Б) Марс; В) Сатурн; Г) Меркурий;
5. Планеты земной группы относительно Солнца располагаются в следующей последовательности:
А) Марс - Венера - Меркурий - Земля; Б) Меркурий - Венера - Земля - Марс;
В) Венера - Земля - Марс - Меркурий; Г) Меркурий - Венера - Марс - Земля;
6. На какой планете присутствует активная вулканическая деятельность? А) Меркурий; Б) Марс; В) Земля; Г) Венера;
7. Планета с самой большой горой в Солнечной системе: А) Меркурий; Б) Марс; В) Земля; Г) Венера;
8. Самая маленькая планета земной группы: А) Меркурий; Б) Марс; В) Земля; Г) Венера;
9. У какой планеты день длится больше, чем год? А) Меркурий; Б) Марс; В) Земля; Г) Венера;
10. Самой дальней от Солнца из планет земной группы является: А) Меркурий; Б) Марс; В) Земля; Г) Венера;
11. На какой планете находится самый большой каньон в Солнечной системе? А) Меркурий; Б) Марс; В) Земля; Г) Венера;
12. Какая планета состоит на 95% из CO₂? А) Меркурий; Б) Марс; В) Земля; Г) Венера;
13. Самую плотную облачную атмосферу из планет земной группы имеет: А) Меркурий; Б) Марс; В) Земля; Г) Венера;
14. Из планет земной группы спутники имеют:
А) Меркурий, Земля; Б) Марс, Земля; В) Венера, Марс; Г) Венера, Меркурий;
15. Самая богатая железом планета:
А) Меркурий; Б) Марс; В) Земля; Г) Венера;

16. Наиболее высокая температура на поверхности: А) Меркурий; Б) Марс; В) Земля; Г) Венера;
17. Белые полярные шапки на полюсах имеются у: А) Меркурия, Земли; Б) Марса, Земли; В) Венеры, Марса; Г) Венеры, Меркурия;
18. Самый продолжительный день имеет: А) Меркурий; Б) Марс; В) Земля; Г) Венера;
19. На поверхности какой планеты часто появляются песчаные бури? А) Меркурий; Б) Марс; В) Земля; Г) Венера;
20. Какая планета из-за охлаждения железного ядра охлаждается и сжиматься? А) Меркурий; Б) Марс; В) Земля; Г) Венера.

Эталон ответов на тест 3 по теме: *Планеты земной группы:*

№	1	2	3	4	5	6	7	8	9	10	11	12	13	14	15	16	17	18	19	20
Вар.	А	Г	Б	В	Б	Г	Б	А	А	Б	Б	Г	Г	Б	Б	Г	Б	В	Б	А

Критерий оценивания «*Планеты земной группы*»: Каждое задание оценивается в 1 балл. Система начисления баллов за правильно выполненное задание для оценивания работ по 5-балльной шкале оценивания учебных достижений студентов приведено в таблице 1. Таблица 1.

Количество набранных баллов	Оценка по 5-балльной системе оценивания учебных достижений студентов
0-8	2 ("неудовлетворительно")
9-12	3 ("удовлетворительно")
13-16	4 ("хорошо")
17-20	5 ("отлично")

Тест 4 по теме: *Планеты-гиганты и малые тела:*

1. Самая большая планета Солнечной системы: А) Юпитер; Б) Сатурн; В) Уран; Г) Нептун;
2. Планета с самым большим вихрем - Большое Красное Пятно находится на: А) Юпитер; Б) Сатурн; В) Уран; Г) Нептун;
3. Планета с самым большим количеством лун: А) Юпитер; Б) Сатурн; В) Уран; Г) Нептун;
4. Планета с самым большим количеством колец: А) Юпитер; Б) Сатурн; В) Уран; Г) Нептун;
5. Планета, вращающаяся на боку: А) Юпитер; Б) Сатурн; В) Уран; Г) Нептун;
6. «Полосатая планета»: А) Юпитер; Б) Сатурн; В) Уран; Г) Нептун;
7. Первая планета, открытая с помощью телескопа: А) Юпитер; Б) Сатурн; В) Уран; Г) Нептун;
8. Планета, открытая «на кончике пера»: А) Юпитер; Б) Сатурн; В) Уран; Г) Нептун;
9. Сколько главных колец на Сатурне? А) 4; Б) 5; В) 6; Г) 7;
10. Почему в кольцевой системе Сатурна образуются хребты? Из-за:
 - А) гравитации лун; Б) гравитации частиц колец;
 - В) притяжения соседних планет; Г) неравномерного распределения массы Сатурна;
11. Почему из пояса астероидов не образуется планета?
 - А) расстояние между астероидами велико; Б) из-за гравитации ближайшей планеты;

- В) из-за быстрого движения пояса; Г) из-за внутреннего строения астероидов;
12. В чем опасность астероидной атаки?
 А) повышение температуры планеты; Б) испарение запасов воды;
 В) уничтожение атмосферы планеты; Г) глобальный катаклизм или уничтожение Земли;
13. Перед вами названия планет Солнечной системы, перечисленные в алфавитном порядке, выберите из них планеты-гиганты: А) Венера; Б) Земля; В) Марс; Г) Меркурий; Д) Нептун; Е) Плутон; Ж) Сатурн; З) Уран; И) Юпитер.
14. Особенности планет являются: А) наличие атмосферы; Б) отсутствие атмосферы; В) кратеры; Г) наличие твердой поверхности; Д) наличие воды; Е) наличие спутников; Ж) магнитное поле. Какая особенность из перечисленных характерна для всех планет, независимо от их состава?

Эталон ответов на тест по теме: *Планеты-гиганты и малые тела*:

№	1	2	3	4	5	6	7	8	9	10	11	12	13	14
Вар.	А	А	А	Б	В	В	А	Г	В	А	А	Г	Д, Ж, З, И	Ж

Критерий оценивания «Планеты-гиганты и малые тела»: Каждое задание оценивается в 1 балл. Система начисления баллов за правильно выполненное задание для оценивания работ по 5- балльной шкале оценивания учебных достижений студентов приведено в таблице 1.

Таблица 1.

Количество набранных баллов	Оценка по 5-балльной системе оценивания учебных достижений студентов
0-4	2 ("неудовлетворительно")
5-8	3 ("удовлетворительно")
9-12	4 ("хорошо")
13-14	5 ("отлично")
5	5 ("отлично")

Практическое занятие

Тема: Решение задач на нахождение периодов обращения планет и законов Кеплера.

Цель занятия:

1. Продолжить формирование основных законов движения тел;
2. Создать условия для того, чтобы обучающиеся учились формулировать эмпирические закономерности и делать обобщения;
3. Продолжить работу по овладению методами научного исследования;
4. Показать, что открытие законов Кеплера и их уточнение Ньютоном - пример познаваемости мира и его закономерностей.

Практическое занятие

Тема: Решение задач на законы движения небесных тел.

Цель занятия:

1. Продолжить работу по овладению методами научного исследования;
2. Закрепление знаний обучающихся по решению задач на законы движения небесных тел.

Практическое занятие №5.

Тема: Свойства и характеристики тел Солнечной системы.

Цель работы:

1. Обобщить знания о физических характеристиках и движении тел Солнечной системы;
2. Методом сравнения выявить общие и отличительные параметры этих тел.

3.1.2.Перечень лабораторно-практических работ

Тест 1 по теме: *Введение и основы практической астрономии*

Тест 2 по теме: *Механика небесных тел:*

Тест 3 по теме: *Планеты земной группы*

Тест 4 по теме: *Планеты-гиганты и малые тела*

Решение задач на нахождение периодов обращения планет и законов Кеплера

Решение задач на законы движения небесных тел.

3.2 Промежуточная аттестация

Каждый вариант экзаменационной работы состоит из тестовых заданий и включает в себя 20 заданий, отличающихся по содержанию, форме и уровню сложности. К каждому заданию дано 4 варианта ответа, из которых только один правильный.

В контрольных измерительных материалах представлено содержание всех основных разделов курса астрономии.

Общее количество экзаменационных заданий по каждому из разделов приблизительно пропорционально его содержательному наполнению и учебному времени, отводимому на изучение данного раздела.

Время выполнения теста: 75 минут

Вариант № 1

1. Наука о небесных светилах, о законах их движения, строения и развития, а также о строении и развитии Вселенной в целом называется ...

- | | |
|----------------|-----------------|
| 1. Астрометрия | 3. Астрономия |
| 2. Астрофизика | 4. Другой ответ |

2. Гелиоцентричную модель мира разработал ...

- | | |
|---------------------|---------------------|
| 1. Хаббл Эдвин | 3. Тихо Браге |
| 2. Николай Коперник | 4. Клавдий Птолемей |

3. К планетам земной группы относятся ...

- | | |
|----------------------------------|-----------------------------------|
| 1. Меркурий, Венера, Уран, Земля | 3. Венера, Земля, Меркурий, Фобос |
| 2. Марс, Земля, Венера, Меркурий | 4. Меркурий, Земля, Марс, Юпитер |

4. Второй от Солнца планета называется ...

- | | |
|-------------|----------|
| 1. Венера | 3. Земля |
| 2. Меркурий | 4. Марс |

5. Межзвездное пространство ...

- | | |
|----------------------------|----------------------------------------------|
| 1. не заполнено ничем | 3. заполнено обломками космических аппаратов |
| 2. заполнено пылью и газом | 4. другой ответ. |

6. Угол между направлением на светило с какой-либо точки земной поверхности и направлением из центра Земли называется ...

- | | |
|-----------------------------|-----------------------|
| 1. Часовой угол | 3. Азимут |
| 2. Горизонтальный параллакс | 4. Прямое восхождение |

7. Расстояние, с которого средний радиус земной орбиты виден под углом 1 секунда называется ...

- | | |
|----------------------------|----------------------|
| 1. Астрономическая единица | 3. Световой год |
| 2. Парсек | 4. Звездная величина |

8. Нижняя точка пересечения отвесной линии с небесной сферой называется ...

- | | |
|------------------|----------|
| 1. точкой юга | 3. зенит |
| 2. точкой севера | 4. надир |

9. Большой круг, плоскость которого перпендикулярна оси мира называется ...

- | | |
|----------------------|-----------------------|
| 1. небесный экватор | 3. круг склонений |
| 2. небесный меридиан | 4. настоящий горизонт |

10. Первая экваториальная система небесных координат определяется ...

- | | |
|-----------------------------------|-----------------------|
| 1. Годинный угол и склонение | 3. Азимут и склонение |
| 2. Прямое восхождение и склонение | 4. Азимут и высота |

11. Большой круг, по которому центр диска Солнца совершает свой видимый летний движение на небесной сфере называется ...

- | | |
|----------------------|-------------------|
| 1. небесный экватор | 3. круг склонений |
| 2. небесный меридиан | 4. эклиптика |

12. Линия вокруг которой вращается небесная сфера называется

- | | |
|--------------|-----------------------|
| 1. ось мира | 3. полуденная линия |
| 2. вертикаль | 4. настоящий горизонт |

13. В каком созвездии находится звезда, имеет координаты $\alpha = 5^h 20^m$, $\delta = +100$

- | | |
|-------------|----------|
| 1. Телец | 3. Заяц |
| 2. Возничий | 4. Орион |

14. Обратное движение точки весеннего равноденствия называется ...

- | | |
|--------------|---------------------------|
| 1. Перигелий | 3. Прецессия |
| 2. Афелий | 4. Нет правильного ответа |

15. Главных фаз Луны насчитывают ...

- | | |
|-----------|-----------|
| 1. две | 3. шесть |
| 2. четыре | 4. восемь |

16. Угол который, отсчитывают от точки юга S вдоль горизонта в сторону заката до вертикала светила называют ...

- | | |
|-----------|-----------------|
| 1. Азимут | 3. Часовой угол |
| 2. Высота | 4. Склонение |

17. Квадраты периодов обращения планет относятся как кубы больших полуосей орбит. Это утверждение ...

- | | |
|-------------------------|----------------------------|
| 1. первый закон Кеплера | 3. третий закон Кеплера |
| 2. второй закон Кеплера | 4. четвертый закон Кеплера |

18. Телескоп, у которого объектив представляет собой линзу или систему линз называют ...

- | | |
|-----------------|----------------------------|
| 1. Рефлекторный | 3. менисковый |
| 2. Рефракторный | 4. Нет правильного ответа. |

19. Установил законы движения планет ...

- | | |
|---------------------|--------------------|
| 1. Николай Коперник | 3. Галилео Галилей |
| 2. Тихо Браге | 4. Иоганн Кеплер |

20. К планетам-гигантам относят планеты ...

- | | |
|---------------------------------|---------------------------------|
| 1. Фобос, Юпитер, Сатурн, Уран | 3. Нептун, Уран, Сатурн, Юпитер |
| 2. Плутон, Нептун, Сатурн, Уран | 4. Марс, Юпитер, Сатурн, Уран |

Вариант № 2

1. Наука, изучающая строение нашей Галактики и других звездных систем называется ...

- | | |
|------------------------|-----------------|
| 1. Астрометрия | 3. Астрономия |
| 2. Звездная астрономия | 4. Другой ответ |

2. Геоцентричную модель мира разработал ...

- | | |
|---------------------|---------------------|
| 1. Николай Коперник | 3. Клавдий Птолемей |
| 2. Исаак Ньютон | 4. Тихо Браге |

3. Состав Солнечной система включает ...

- | | |
|-------------------|------------------|
| 1. восемь планет. | 3. десять планет |
| 2. девять планет | 4. семь планет |

4. Четвертая от Солнца планета называется ...

- | | |
|----------|-----------|
| 1. Земля | 3. Юпитер |
| 2. Марс | 4. Сатурн |

5. Определенный участок звездного неба с четко очерченными пределами, охватывающий все принадлежащие ей светила и имеющая собственное называется ...

- | | |
|--------------------|------------------|
| 1. Небесной сферой | 3. Созвездие |
| 2. Галактикой | 4. Группа зрение |

6. Угол, под которым из звезды был бы виден радиус земной орбиты называется ...

- | | |
|-----------------------------|-----------------|
| 1. Годовой параллакс | 3. Часовой угол |
| 2. Горизонтальный параллакс | 4. Склонение |

7. Верхняя точка пересечения отвесной линии с небесной сферой называется ...

- | | |
|------------------|---------------|
| 1. надир | 3. точках юга |
| 2. точках севере | 4. зенит |

8 Большой круг, проходящий через полюса мира и зенит называется ...

- | | |
|----------------------|-----------------------|
| 1. небесный экватор | 3. круг склонений |
| 2. небесный меридиан | 4. настоящий горизонт |

9. Промежуток времени между двумя последовательными верхними кульминациями точки весеннего равноденствия называется ...

- | | |
|--------------------|--------------------|
| 1. Солнечные сутки | 3. Звездный час |
| 2. Звездные сутки | 4. Солнечное время |

10. Количество энергии, которую излучает звезда со всей своей поверхности в единицу времени по всем направлениям называется ...

- | | |
|----------------------|---------------|
| 1. звездная величина | 3. парсек |
| 2. яркость | 4. светимость |

11. Вторая экваториальная система небесных координат определяется ...

- | | |
|-----------------------------------|-----------------------|
| 1. Годинний угол и склонение | 3. Азимут и склонение |
| 2. Прямое восхождение и склонение | 4. Азимут и высота |

12. В каком созвездии находится звезда, имеет координаты $\alpha = 20^h 20^m$, $\delta = + 35^\circ$

- | | |
|------------|------------|
| 1. Козерог | 2. Дельфин |
|------------|------------|

3. Стрела

4. Лебедь

13. Путь Солнца на небе вдоль эклиптики пролегает среди ...

1. 11 созвездий

3. 13 созвездий

2. 12 созвездий

4. 14 созвездий

14. Затмение Солнца наступает ...

1. если Луна попадает в тень Земли.

2. если Земля находится между Солнцем и Луной

3. если Луна находится между Солнцем и Землей

4. нет правильного ответа.

15. Каждая из планет движется вокруг Солнца по эллипсу, в одном из фокусов которого находится Солнце. Это утверждение ...

1. первый закон Кеплера

3. третий закон Кеплера

2. второй закон Кеплера

4. четвертый закон Кеплера

16. Календарь, в котором подсчету времени ведут за изменением фаз Луны называют ...

1. Солнечным

3. Лунным

2. Лунно-солнечным

4. Нет правильного ответа.

17. Телескоп, у которого объектив представляет собой вогнутое зеркало называют ...

1. Рефлекторным

3. менисковый

2. Рефракторным

4. Нет правильного ответа

18. Система, которая объединяет несколько радиотелескопов называется ...

1. Радиоинтерферометром

3. Детектором

2. Радиотелескопом

4. Нет правильного ответа

19. Наука, изучающая строение нашей Галактики и других звездных систем называется ...

1. Астрометрия

3. Астрономия

2. Звездная астрономия

4. Другой ответ

20. Закон всемирного тяготения открыл ...

1. Галилео Галилей

3. Исаак Ньютон

2. Хаббл Эдвин

4. Иоганн Кеплер

Ответы

Вариант №1

Вариант №2

№ вопроса	Ответ	№ вопроса	Ответ
1	3	1	3
2	2	2	3
3	2	3	1
4	1	4	2
5	2	5	3
6	2	6	1
7	2	7	4
8	4	8	4
9	1	9	2
10	1	10	4
11	4	11	1
12	1	12	4
13	4	13	3
14	1	14	3
15	2	15	1
16	1	16	3
17	3	17	2
18	2	18	1
19	4	19	3
20	3	20	3

3. КРИТЕРИИ ОЦЕНОК

Каждое правильно выполненное задание оценивается одним баллом. Таким образом, максимальное количество первичных баллов, которое можно получить при выполнении теста – 20.

Оценка в пятибалльной шкале	Критерии оценки	
«2»	Выполнено менее 70% задания	Набрано менее 14 баллов
«3»	Выполнено 70-80% задания	Набрано 14-15 баллов
«4»	Выполнено 80-90% задания	Набрано 16-17 баллов
«5»	Выполнено более 90% задания	Набрано 18 баллов и более

